

令和6年度
入学試験問題

社 会

2月2日 第1限

仁愛女子高等学校

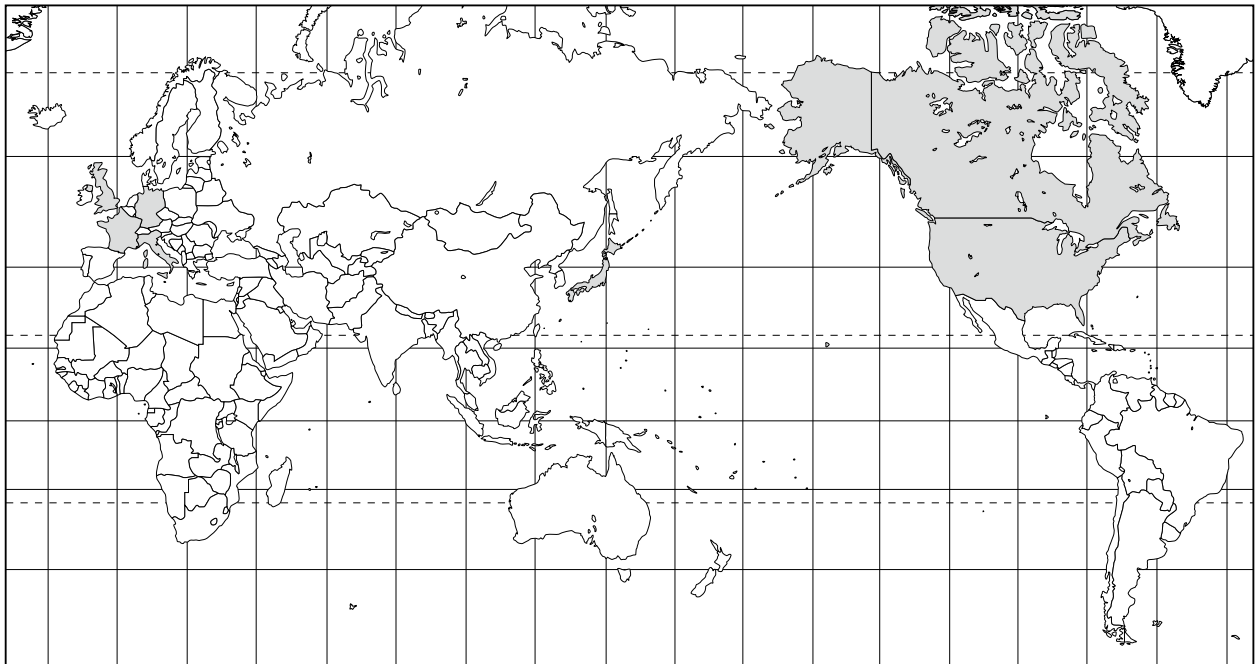
1 世界の国について、あとの問いに答えよ。

2023年の5月にG7広島サミット2023が広島で開催された。表1はこの会議の「主な参加国」と「招待国」ならびに「主な招待機関」である。

表1

主な参加国	フランス, アメリカ, イギリス, ドイツ, 日本, イタリア, カナダ
招待国	インド, 韓国, オーストラリア, ブラジル, クック諸島, ベトナム, コモロ, インドネシア
主な招待機関	国際エネルギー機関, 国際通貨基金, 経済協力開発機構, 世界保健機関, 世界貿易機関

世界地図

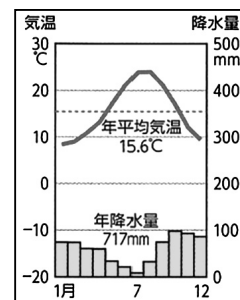


資料1

	日本	X
人口	12,584(万人)	8,317(万人)
面積	378(千km ²)	358(千km ²)
日本との時差		約8時間
首都の緯度	約北緯35°	約北緯52°

人口・面積は2020年

資料2



問(1) 資料1は、日本と表1の「主な参加国」の中の“ある国”(資料1中のX)との比較である。

世界地図を参考に、Xにあてはまる国名を答えよ。

(2) 資料2は、表1の「主な参加国」のいずれかの国の首都の雨温図である。国名を答えよ。

(3) サミット開催地の広島県には世界遺産が複数存在する。このうち、原爆ドーム以外の世界遺産を1つ答えよ。

- (4) 広島サミットには表1の国々や機関以外にもEUの委員長らも参加した。EUについて述べた文X・Yについてその正誤の組み合わせとして正しいものを、次のア～エから1つ選び、記号で答えよ。

X EU内では貿易品に関税がかからないので、地価や賃金の高い西ヨーロッパに工場を移す企業が増えている。

Y EU加盟国のうち9割以上の国が共通通貨（ユーロ）を導入している。

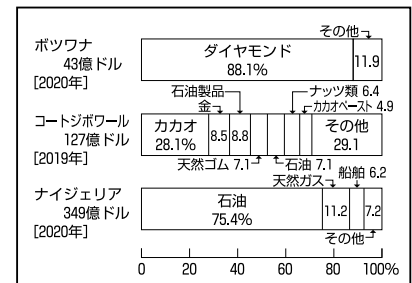
- ア X－正 Y－正 イ X－正 Y－誤
ウ X－誤 Y－正 エ X－誤 Y－誤

- (5) 表1の「招待国」のうち、コモロはアフリカ連合の議長国である。アフリカ連合の略称をアルファベットで答えよ。

資料3

- (6) 資料3は、アフリカのいくつかの国の輸出品の割合と輸出額を表している。これについて述べた次の文章から正しいものをア～エから1つ選び、記号で答えよ。

- ア これらの輸出品はどれも希少価値が高く、また天候などの影響を受けにくいために、安定した収入が得られる。
イ 特定の種類の農産物や鉱産物の輸出に頼る経済を貨幣経済という。
ウ 3か国の輸出品の第1位の産物の輸出額は、どれも30億ドル以上である。
エ これらの輸出品は、それぞれの国が独立した後に独自に生産を始めたものである。



- (7) 「招待国」の1つのインドネシアは、東南アジア諸国連合の議長国である。東南アジアについて述べた次の文章の(X)、(Y)に適する語句を書け。

東南アジアは季節風の影響で降水量が多く、大河の流域を中心に稲作が盛んで、年に2回収穫する(X)ができる地域もある。マレーシアやインドネシアなどでは、かつて天然ゴムやコーヒーなどの商品作物を大規模に栽培する大農園(Y)が造られた。

- (8) 資料4は表1の「招待国」の中の韓国、オーストラリア、ブラジル、インドネシアの主な輸出品などをまとめたものである。このうちブラジルにあてはまるものをア～エから1つ選び、記号で答えよ。

資料4

(2020年)

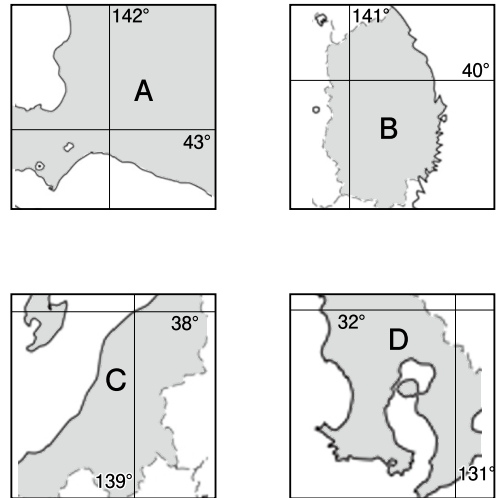
	主な輸出品	国内総生産(百万ドル)	人口(万人)
ア	機械類, 石油製品, 鉄鋼	1,637,896	5,178
イ	鉄鉱石, とうもろこし, 鶏肉	1,444,733	21,176
ウ	機械類, 石炭, 液化天然ガス	1,058,424	26,960
エ	液化天然ガス, 石炭, 鉄鉱石	1,423,473	2,550

2 日本について、以下の問いに答えよ。

地図1



地図2



縮尺は同一ではない。
地図中の数字は北緯，東経を表している。

- ① 南東部の平野では、土の養分バランスを保つために、異なる作物を順番につくる（ ）が行われている。
- ② 一年を通して稲作だけを行う日本を代表する水田地帯である。品種改良などでおいしい米を栽培する取り組みも行われ、現在はコシヒカリなど全国的に有名な（ ）米の産地として有名である。
- ③ 東部の海岸の沖には、寒流と暖流とがぶつかる（ ）があり、多くの魚が集まる漁場となっている。
- ④ 南部に広がる（ ）は、栄養分が少なく水もたくわえにくく、稲作に適さないため、畑作や畜産が盛んである。

問(1) ①～④の文章の中の（ ）に適する語句を答えよ。

- (2) ①～④の文章は、地図2のA～Dのどの特色を表しているか。地図1を参考に記号で答えよ。
- (3) 地図2のA～Dの中で過去に冬季オリンピックが開かれたのはどこか。A～Dの中から1つ選び、記号で答えよ。
- (4) 地図2のA～Dにおいて、発生頻度が高い自然現象（災害）の組み合わせとして正しいものをア～エから1つ選び、記号で答えよ。

表

	ア	イ	ウ	エ
豪雪	B	C	C	D
土石流	A	B	D	C
冷害	D	D	B	B

3 争いに関するⅠ，Ⅱの問いに答えよ。

Ⅰ トウジさんとアスカさんの会話を読み，あとの問いに答えよ。

トウジ：「争い」と一言で言っても，「戦争」，「紛争」，「武力行使」，「乱」，「変」などいろいろな言葉が付くね。なんで言葉を使い分けるのだろう。

アスカ：言葉を使い分けるということは，「争い」が何らかの理由で分類されているということなのだろうね。複雑に要因が絡み合っていて分類しにくいものもあるとは思うけれど。

トウジ：歴史の授業の中でも，たくさんの「争い」について学んできたね。僕なりに「争い」を分類してみたんだ。ほんの一部だけどね。ちょっと見てくれるかな？

トウジさんが分類した「争い」

日本国内での権力者同士の争い	外国との間で起こった争い	明治以降の外国との戦争
A 承久の乱	D 白村江の戦い	G 日清戦争
B 平治の乱	E 文禄の役	H 日露戦争
C 壬申の乱	F 薩英戦争	I 太平洋戦争

問(1) Aの争いに関することとして誤っているものをア～エの中から1つ選び，記号で答えよ。

ア この争いは朝廷の勢力を回復させようとしていた後鳥羽上皇が幕府を倒そうと兵をあげた。

イ この争いの後，幕府は京都に京都所司代を置いて朝廷を監視した。

ウ 幕府は上皇に味方した貴族や西日本の武士の領地を取り上げ，その場所の地頭には東日本の武士を任命した。

エ この争いが起こった時にはすでに執権を中心とする有力な御家人の話し合いによって政治が行われていた。

(2) Bの争いに勝利し，武家政権の基礎を築いたこの人物に関することとして正しいものをア～エの中から1つ選び，記号で答えよ。

ア 武士として初めて太政大臣になった。

イ 勘合を用いた日明貿易を行った。

ウ 百姓や寺社から刀・弓・やり・鉄砲などの武器を取り上げた。

エ 平等院鳳凰堂を建立した。

(3) A～Cの争いを時代の古い順番に並び替えたとき，正しいものをア～エの中から1つ選び，記号で答えよ。

ア A→B→C

イ B→A→C

ウ C→A→B

エ C→B→A

- (4) Dの争いに関して、次の ～ に入る言葉の組み合わせとして正しいものをア～エから1つ選び、記号で答えよ。

中大兄皇子らは、 の復興を助けようと大軍を送ったが、唐と の連合軍に大敗した。朝鮮半島での緊張が高まる中、中大兄皇子は天津に政治の中心を移し、即位して となった。


- ア a 新羅 b 百済 c 天武天皇 イ a 高句麗 b 新羅 c 天智天皇
 ウ a 百済 b 新羅 c 天智天皇 エ a 新羅 b 高句麗 c 天武天皇

- (5) Eの争いによって、相手国から連行された陶工がすぐれた技術を伝えた。このうち、江戸時代になるとヨーロッパにも輸出された佐賀の特産品の名前を漢字3字で答えよ。



- (6) Fの争いが起こっていた時、世界ではどのようなことが起こっていたか。正しいものをア～エから1つ選び、記号で答えよ。

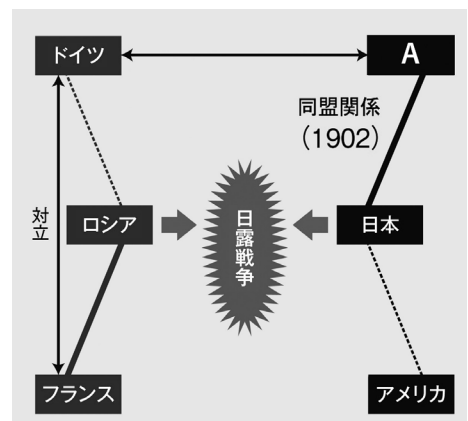
- ア アメリカで、南北戦争が起こった。
 イ フランスで、ナポレオンが革命の終結を宣言して皇帝の位についた。
 ウ 中国で、アヘン戦争が起こった。
 エ イギリスでピューリタン革命が起こった。



- (7) Gの戦争に関して、この戦争の賠償金をもとに建設され、後の日本の重化学工業発展の基礎を担った右の施設の名前を答えよ。

図1

- (8) Hの戦争における各国の関係を表した図1において、Aに入る国名を答えよ。



- (9) Iの戦争に関して、敗戦後の日本の様子として最も適当なものをア～エから1つ選び、記号で答えよ。

- ア 民主主義の教育の基本を示す教育勅語が作られた。
 イ 農村では農地改革が行われ、地主が持つ小作地を政府が強制的に買い上げて小作人に安く売りわたした結果、多くの自作農が生まれた。
 ウ 労働者の権利を尊重するため、労働条件の最低賃金を定める労働組合法が制定された。
 エ 日本はマッカーサーを最高司令官とするGHQの指示に従って日本政府が政策を実施する直接統治の方法が採られた。

II トウジさんとアスカさんは歴史分野で調べ学習を行い、発表の準備をしている。

(10) トウジさんが調べて分かったことをまとめた。あとの問いに答えよ。

調べて分かったこと

- ・日本は1910年以降，社会主義者や共産主義者を強く弾圧していた。
- ・1917年に起こったロシア革命や米騒動をきっかけに日本で社会運動が高まった。
- ・第一次世界大戦後，1920年代になると，A労働運動や農民運動，女性運動，共産主義運動などがさらに高まった。
- ・B1925年には日本国内で参政権の拡大の声が高まる中で，日ソ基本条約が締結され，ソ連との国交が回復した。

ビラ



- ① 下線の部分Aに関して，1920年5月2日，労働者が権利を主張して開催する集会が日本で初めて行われた。右上のビラにはそれを表すカタカナが記されている。それは何か答えよ。
- ② 下線の部分Bに関して，この年日本国内で参政権に関することと共産主義運動に関することとで，大きな動きがあった。トウジさんが調べて分かったことを受けて，彼が抱いた懸念とこの年に起こった出来事の組み合わせとして正しいものを，ア～エから1つ選び，記号で答えよ。

懸念

- I 今まで参政権が認められていなかった人にも選挙権が与えられれば，政治のことを理解しない人の投票も増えてしまうのではないかと懸念している。
- II 日本国内で労働運動や共産主義運動が高まっている中でソ連と国交を回復したことで，天皇を中心とする日本の政治体制を揺るがす危険性が高まってしまっているのではないかと懸念している。

出来事

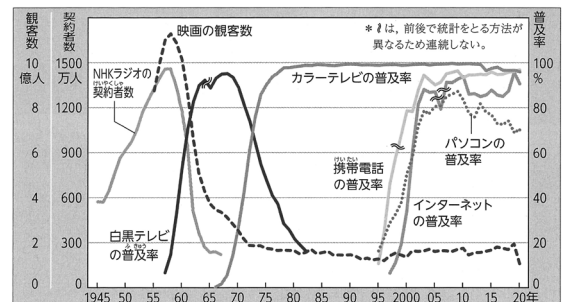
- A この年，共産主義者や国の体制を揺るがす危険性のある団体を取り締まる法律が成立した。
- B この年，選挙法を改正し，納税額を引き下げに留めた。

ア I—A イ I—B ウ II—A エ II—B

(11) アスカさんはマスメディアや情報通信機器の普及に関して，発表をする。資料5を参考に，当時マスメディアを介した映像（動画）を日本国内で人々が見る際，カラー放送で見ることができなかったと考えられるのはどれか。正しいものをア～エから1つ選び，記号で答えよ。

- ア ベルリンの壁崩壊
- イ サンフランシスコ平和条約の調印
- ウ 日本万国博覧会(大阪府)
- エ 初めて日本にパンダがやってきた様子

資料5 マスメディアや情報通信機器，インターネットの普及



(内閣府資料ほか)

4 次の対話文や資料を参考にあとの問いに答えよ。

シンジ：ついに2024年3月16日に北陸新幹線が敦賀まで延伸されるね。

カオル：ほんとだね。A 2015年には富山・石川とつながったけれど、ようやく福井にも来たね！

福井のB 観光産業にもいい影響が出るといいな。中部縦貫自動車道も工事が着々と進んでいるし、どんどんC道も、つながっていくね。



シンジ：観光だけでなくD 人やモノの移動もこれまで以上に活発になるよね。

今まではE 東海道新幹線を使って東京に向かっていただけで、北陸新幹線は福井—東京間で つの県を通過するから、これからは新しい景色がみられるね。

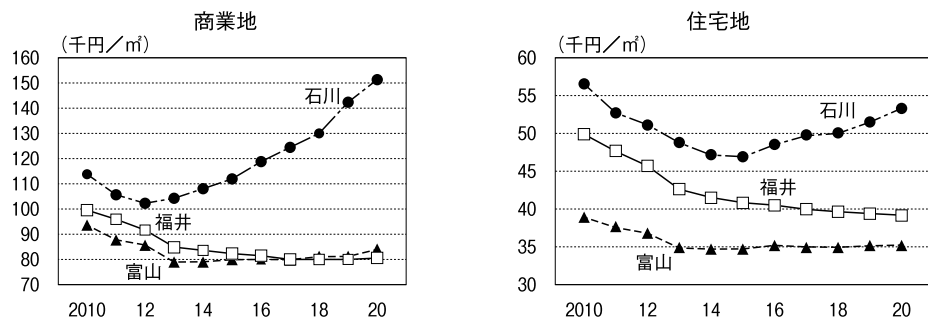
カオル：これをきっかけに、北陸新幹線が通る各地域の名産品やF 伝統工芸品をSNSで発信してみようかな。

問(1) 北陸新幹線を利用して福井—東京間を移動する場合、福井、東京を除いていくつの県を通るか。

に当てはまる数字を答えよ。

(2) 下線の部分Aに関して、次の資料6は北陸新幹線が金沢まで開通した2015年前後の北陸3県の地価を示したものである。資料6について述べた文X・Yについてその正誤の組み合わせとして正しいものを、次のア～エから1つ選び、記号で答えよ。

資料6 北陸3県の地価（商業地・住宅地）



X 石川県の地価は北陸新幹線が開通して以降、商業地・住宅地ともに上昇傾向にある。
 Y 富山県の商業地・住宅地の地価はグラフではどちらも2010年をピークとし、一度も福井県を上回っている年はない。

- ア X－正 Y－正 イ X－正 Y－誤
 ウ X－誤 Y－正 エ X－誤 Y－誤

- (3) 下線の部分Bに関して、次の資料7は2023年5月のカレンダーに書かれた首都圏のあるホテルの宿泊料金である。これを参考にしながら、枠内文中のⅠ～Ⅲに当てはまる言葉を、ア・イからそれぞれ1つずつ選び、記号で答えよ。

資料7 2023年5月のホテルの宿泊料金

月	火	水	木	金	土	日
1 15,000円	2 18,000円	3 20,000円	4 20,000円	5 20,000円	6 20,000円	7 15,000円
8 12,000円	9 12,000円	10 12,000円	11 12,000円	12 15,000円	13 20,000円	14 15,000円
15 12,000円	16 12,000円	17 12,000円	18 12,000円	19 15,000円	20 20,000円	21 15,000円
22 12,000円	23 12,000円	24 12,000円	25 12,000円	26 15,000円	27 20,000円	28 15,000円
29 12,000円	30 12,000円	31 12,000円				

2名1室利用で、1名あたりの基本料金。網掛け数字は土・日曜日及び祝日を表している。

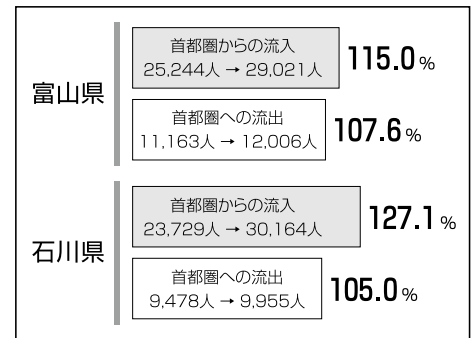
ゴールデンウィーク期間中の5月3日と5月4日、5月5日は、そのほかの週に比べて宿泊料金が高く設定されている。これは、ホテルが受け入れることのできる宿泊者の数、つまり、Ⅰ（ア 需要 イ 供給）量は一定であるのに対し、ホテルに宿泊を希望する人の数、つまり、Ⅱ（ア 需要 イ 供給）量が増加し、需要量が供給量をⅢ（ア 上回る イ 下回る）ことが予想されるからである。

- (4) 下線の部分Cに関して、日本の道の歴史として適当でないものをア～エから1つ選び、記号で答えよ。
- ア 奈良時代には都から地方を結ぶ広い道路が整えられ、道路には役人が行き来するための駅を設けて、乗り継ぎ用の馬が用意された。
- イ 織田信長は領地の経済的發展を図るため、他の領地から安土に入る道沿いに新たに関所を設けて通行料を取った。
- ウ 江戸時代には街道が整備され、参勤交代の大名が宿泊する本陣や、庶民の旅行者が使用する旅籠はたごが設けられた。
- エ 明治時代には東京を中心に、道路には馬車が走り、ランプやガス灯が付けられた。
- (5) 日本で初めての高速道路である名神高速道路は1965年に全線開通となった。1960年代に起こったものとして適当でないものをア～エから1つ選び、記号で答えよ。
- ア キューバのミサイル基地建設をめぐって米ソ間の緊張が極度に高まり、核戦争が起こる寸前で解決された。
- イ 日本で初めてのオリンピックが東京で開催された。
- ウ 西ヨーロッパ諸国は経済統合を進め、ヨーロッパ共同体（EC）を設立した。
- エ 冷戦の国際的な緊張が高まる中、西側・東側いずれにも属さない立場から平和共存を訴えるアジア・アフリカ会議が開かれた。

- (6) 下線の部分Dに関して資料8は、新幹線開通前後での人々の動きを表している。これを見て、次の文の(X)・(Y)に入る語句の正しい組み合わせをア～エから1つ選び、記号で答えよ。

資料8 北陸新幹線開業前後の人々の動き

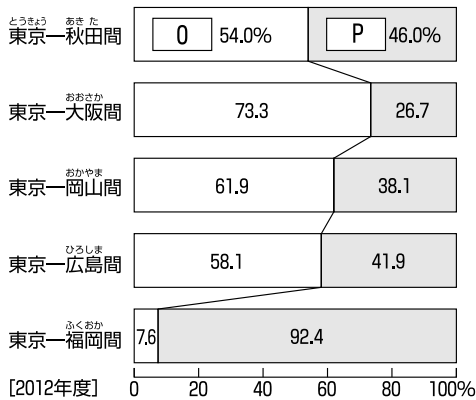
新幹線開通後、富山県や石川県では(X)現象が(Y)と判断できる。



- ア X-ストロー Y-おこった
イ X-ストロー Y-おこらなかった
ウ X-ドーナツ化 Y-おこった
エ X-ドーナツ化 Y-おこらなかった

- (7) 資料9は、移動におけるJR線と航空機の利用の割合を表す。資料中のO、Pの移動方法とそれらを活用した貨物の輸送品について、正しい組み合わせをア～エから1つ選び、記号で答えよ。

資料9



	O		P	
	輸送方法	輸送品	輸送方法	輸送品
ア	J R	農産物	航空機	電子部品
イ	J R	電子部品	航空機	農産物
ウ	航空機	農産物	J R	電子部品
エ	航空機	電子部品	J R	農産物

- (8) 下線の部分Eに関して、江戸時代には、東海道をモチーフにした文学作品や絵画が多く生み出された。そのうち、「東海道中膝栗毛」の作者として正しいものをア～エから1つ選び、記号で答えよ。

- ア 東洲斎写楽 イ 十返舎一九 ウ 曲亭馬琴 エ 喜多川歌麿

- (9) 下線の部分Fに関して、次の伝統工芸品のうち、北陸新幹線が通る県と関係のないものを下から1つ選べ。

- 【 南部鉄器 小千谷ちぢみ 輪島塗 加賀友禅 高岡銅器 】

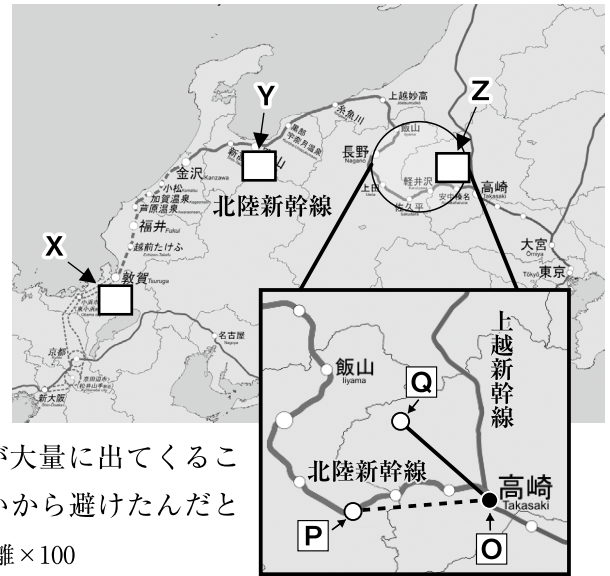
(10) シンジさんたちは、北陸新幹線概要図をみて、会話をしている。あとの問いに答えよ。

シンジ：北陸新幹線は上越新幹線と枝分かれして 北陸新幹線概要図 (国土交通省より)
福井につながってくるんだね。

アスカ：枝分かれしたときに、A大きく西に向かっ
てルートが敷かれたのはなぜだろう？

シンジ：本来最短距離を結ぶルートが選択されるはず
だけど、地形との関係も深いだろうね。

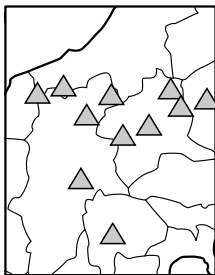
トウジ：僕は、集めた資料から、まっすぐ北上した
群馬県北西部の位置に (a) があることで、実際のルートよりもこう配*が
(b) になり、実施基準から外れること
や、トンネルを掘った時に (c) が大量に出てくること
と高熱の岩盤が崩壊する危険性が大きいから避けたんだと
分かったよ。*こう配とは、垂直距離÷水平距離×100



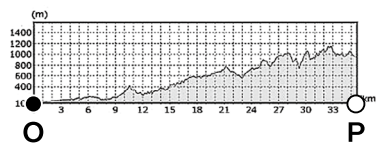
① 下線の部分Aに関して、トウジさんが集めた資料を参考に、(a) ~ (c) に
当てはまる語句の組み合わせとして正しいものをア~エから1つ選び、記号で答えよ。

トウジさんが集めた資料

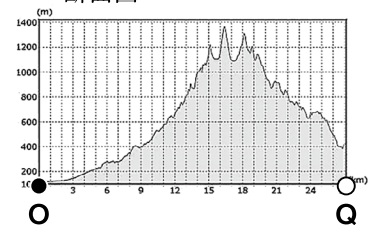
活火山の分布 (気象庁HPより作成)



-----で示したO P間の
断面図

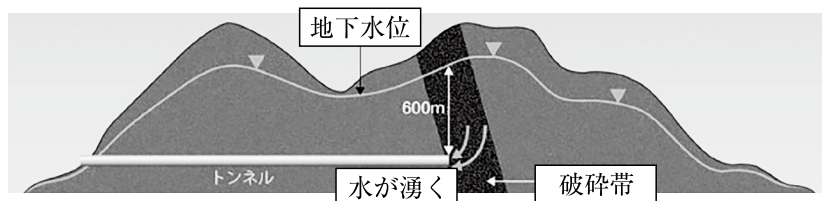


——で示した沿線に沿って
まっすぐ北上したO Q間の
断面図



(国土地理院地図より作成)

トンネルの断面図



破碎帯：地下にあるかたい岩盤が何らかの力で破壊され、くだかれた岩石が一定の幅をもって帯状に連なっているもの

新幹線鉄道実施基準

第2章 線路 第14条

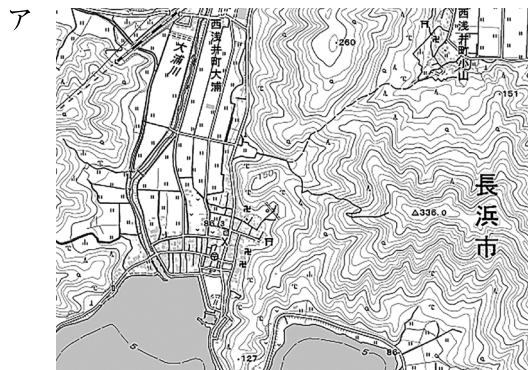
列車の走行区域における最急こう配は、1,000分の15とする。地形上等のため、規定によることが困難な
場合には、列車の動力発生装置、動力伝達装置、走行装置及びブレーキ装置の性能を考慮して、1,000分の
35以下とすることができる。

- ア a ^{はるなさん} 榛名山 b 急 c 地下水 イ a 富士山 b 急 c 地下水
ウ a ^{はるなさん} 榛名山 b ゆるやか c マグマ エ a 富士山 b ゆるやか c マグマ

カオル：ちょうど北陸新幹線概要図のZ地点は、（ d ）になるね。


アスカ：X地点とY地点も、Bイタイイタイ病で学習した河川や、日本で一番大きな湖の位置で分かるね。

② （ d ）に適するZ地点の地形図を次のア～ウから1つ選び、記号で答えよ。



資料10
ろくじゅうよしゅうめいしよずえ
「六十余州名所図会」
越中富山船橋図より

③ 下線の部分Bの河川を描いた右の資料10は、「東海道五十三次」や「名所江戸百景」の作者が描いたものである。作者名を答えよ。



④ イタイイタイ病は水俣病，新潟水俣病，四日市ぜんそくとともに四大公害といわれる。その対策として，1967年に制定された法律では，公害防止のための事業者，国，地方公共団体の責務が明らかにされ，国民健康保護・生活環境保全を図ることになった。この法律名を答えよ。

5 公民の分野に関するあとの問いに答えよ。

問(1) 考え方や価値観の異なる人々が、たがいの文化の違いを認め合い、対等な関係を築きながら、社会の中でともに生活していくことを何というか。漢字5字で書け。

(2) 「効率」と「公正」に関して、「効率」の考え方について説明したものについて、正しいものをア～エの中から1つ選び、記号で答えよ。

ア 平日すべて強豪であるサッカー部がグラウンドを利用する。

イ レストランの混雑時に、相席をお願いする。

ウ ショートケーキを4人で分ける際、ケーキを8等分し、それぞれ2つずつもらった。

エ バレーボール部とバスケットボール部の間で話し合い、月曜日・水曜日・金曜日はバレーボール部が、火曜日・木曜日・土曜日はバスケットボール部が体育館を利用することになった。

(3) 次の文ア～エは人権思想の発展において重要な役割を担った法や宣言文について説明したものである。成立した時期の古いものから順に並べたときに3番目にあたるものを、ア～エの中から1つ選び、記号で答えよ。

ア 国民に対して、人間らしい生活を保障する社会権を認めたワイマール憲法が制定された。

イ 国王の権力を制限し、議会の権利を確認した権利章典（権利の章典）がイギリスで制定された。

ウ 国連は、すべての人間に等しく基本的人権が尊重されるべきであるとする世界人権宣言を発表した。

エ フランス革命を支持した人々は、人権の尊重と国民主権の考えを主張し、人権宣言を発表した。

(4) 近年、社会の変化により、日本国憲法が直接規定していない「新しい人権」が主張されるようになった。「新しい人権」の1つである「自己決定権」と最も関係のあるものをア～エの中から1つ選び、記号で答えよ。

ア インフォームド・コンセント

イ 情報公開制度

ウ 個人情報保護制度

エ 環境アセスメント

(5) 日本の裁判では、一つの内容に対して3回裁判が受けられる三審制がとられている。その理由を「人権」という言葉を用いて、30字程度で書け。

(6) 自国は攻撃を受けていなくても、攻撃を受けた同盟関係にある国の防衛活動に参加する権利を何というか、漢字6字で書け。

- (7) 国会と内閣の関係について述べた文として正しいものをア～エの中から1つ選び、記号で答えよ。
- ア 内閣総理大臣は国会議員の中から指名され、すべての国务大臣を国会議員の中から任命しなければならない。
- イ 内閣は、天皇の信任に基づき、天皇に対して責任を負う仕組みをとっており、これを議院内閣制という。
- ウ 法律案には内閣が提出するものと国会議員が提出するものがあり、衆議院と参議院の各院の委員会と本会議で審議される。
- エ 衆議院と参議院が内閣不信任の決議を行って内閣の責任を問うことができ、決議が可決された場合は、内閣は総辞職をしなければならない。

- (8) 地方自治の財政面の現状について述べた文の に入る語句の組み合わせとして、正しいものをア～エの中から1つ選び、記号で答えよ。

地方公共団体の歳入は、地方税だけでなく、公共事業など特定の事業を行うために国から支払われる などに依存している。そこで、 を進めるために、財源を国から地方に移す取り組みも行われている。

- ア a - 国庫支出金 b - 中央集権 イ a - 国庫支出金 b - 地方分権
- ウ a - 地方交付税交付金 b - 中央集権 エ a - 地方交付税交付金 b - 地方分権

- (9) マスメディアについて、次の資料11・12から読み取ることができる内容として正しいものをア～エの中から1つ選び、記号で答えよ。

資料11 平日1日の主なマスメディアの平均利用時間(2022年度) (分)

年代	テレビ	ネット	新聞
10代	46.0	195.0	0.9
20代	72.9	264.8	0.4
30代	104.4	202.9	1.2
40代	124.1	176.1	4.1
50代	160.7	143.5	7.8
60代	244.2	103.2	17.7

資料12 休日1日の主なマスメディアの平均利用時間(2022年度) (分)

年代	テレビ	ネット	新聞
10代	69.3	285.0	1.0
20代	89.6	330.3	0.5
30代	152.5	199.9	0.8
40代	191.0	157.5	4.6
50代	220.5	134.9	7.6
60代	291.4	105.4	15.0

(資料11・資料12は総務省ホームページより作成。単位は分で表している。テレビに録画視聴時間は含まれない)

- ア 平日1日のテレビの平均利用時間は年代が上がるにつれて利用時間は長くなり、ネットの平均利用時間は年代が下がるにつれて利用時間は短くなる。
- イ 休日1日のテレビの平均利用時間と休日1日のネットの平均利用時間はどちらもすべての年代において2時間を超えている。
- ウ 新聞の平均利用時間は、平日・休日ともに10代より20代のほうが短い傾向にある。
- エ 10代・20代は、平日・休日ともにネットよりテレビの平均利用時間が長い。

- (10) 次の表は現行の制度下での日本の衆議院議員総選挙の比例代表における、あるブロックの各政党（さくら党・ひまわり党・ばら党・ゆり党）の得票数をまとめたものである。このブロックの定数が8名の場合、このブロックの選挙の結果について述べた次の文A～Cのうち、正しいものはどれか。ア～キの中から1つ選び、記号で答えよ。

さくら党	ひまわり党	ばら党	ゆり党
100票	80票	60票	30票

(注1) このブロックには上記の政党以外の政党は存在しないものとする。
(注2) 小選挙区などの重複立候補については考えないものとする。

- A さくら党～ゆり党の中で、1議席も獲得できない政党はない。
B ひまわり党の獲得議席は、ばら党の獲得議席数よりも多い。
C 仮にこのブロックの定数が1議席増加した場合、ひまわり党は新たに議席を獲得する。

- ア A イ B ウ C エ AとB
オ AとC カ BとC キ AとBとC

- (11) 金融の方法について述べた文の に入る語句の組み合わせとして、正しいものをア～エの中から1つ選び、記号で答えよ。

金融機関をなかだちとして資金を調達する方法を 金融という。一方、資金を必要とする企業が などを発行して、資金を調達する方法もある。

- ア a－直接 b－株式 イ a－直接 b－利子
ウ a－間接 b－株式 エ a－間接 b－利子

- (12) 次の文章は、為替相場（為替レート）について述べたものの一部である。文章中（X）に当てはまる適切な数字を書け。また、 に当てはまる文章をア～エの中から1つ選び、記号で答えよ。

為替相場（為替レート）は、世界経済の状況で日々変化し、輸出入に大きな影響を及ぼしている。例えば、日本国内で価格が50万円の機械をアメリカに輸出する場合、1ドル＝100円の時アメリカでの価格は5,000ドルになる。その後、1ドル＝125円となった場合、同じ機械のアメリカでの価格は（X）ドルとなり、。

(注) ここでは、2国間の為替相場（為替レート）以外の影響を考えないものとする。

- ア アメリカでの需要が増えるので、売り上げが伸びることが予想され、日本にとって輸出は有利になると考えられる。
イ アメリカでの需要が増えるので、売り上げが伸びることが予想され、日本にとって輸入は有利になると考えられる。
ウ アメリカでの需要が減るので、売り上げが伸びることが予想され、日本にとって輸出は有利になると考えられる。
エ アメリカでの需要が減るので、売り上げが伸びることが予想され、日本にとって輸入は有利になると考えられる。

- (13) 労働環境に関して、近年重視されている仕事と生活の調和を目指す考え方を何というか。カタカナで答えよ。

受験番号

令和6年度 仁愛女子高等学校入学試験 社会解答用紙

1

(1)	(2)	(3)	(4)	(5)
(6)	(7)	X	Y	(8)

2

(1)	①	②	③	④		
(2)	①	②	③	④	(3)	(4)

3

(1)	(2)	(3)	(4)	
(5)	(6)	(7)	(8)	
(9)	(10)	①	②	(11)

4

(1)	(2)	(3)	I	II	III	(4)
(5)	(6)	(7)	(8)			
(9)	(10)	①	②	③	④	

5

(1)	(2)	(3)	(4)							
(5)	15									
(6)	(7)	(8)	(9)	(10)						
(11)	(12)	数字	記号	(13)						